

# Linearna algebra I <sup>1</sup>

prof. dr. sc. Rudolf Scitovski, izv. prof. dr. sc. Darija Marković  
dr. sc. Darija Brajković<sup>2</sup>

19. siječnja 2021.

<sup>1</sup>Obvezni predmet u 1. semestru sveučilišnog preddiplomskog studijskog programa Matematika i sveučilišnog preddiplomskog studijskog programa Matematika i računarstvo (30 sati predavanja i 30 sati vježbi, 6 ECTS bodova)

<sup>2</sup>[scitowsk@mathos.hr](mailto:scitowsk@mathos.hr), [darija@mathos.hr](mailto:darija@mathos.hr), [dbrajkovic@mathos.hr](mailto:dbrajkovic@mathos.hr)

**Sadržaj predmeta:**

1. Pojam polja i vektorskog prostora. Primjeri vektorskih prostora, vektori u ravnini i prostoru, norma i skalarni produkt vektora u ravnini i prostoru. Linearna zavisnost i nezavisnost vektora.
2. Pojam matrice i operacije s matricama. Regularne matrice. Determinanta. Lijeve i desne baze i koordinatni sustavi. Vektorski i mješoviti produkt vektora. Elementarne transformacije. Adjunkta. Rang matrice.
3. Sustavi linearnih jednadžbi. Rješivost i struktura skupa rješenja. Jednadžba pravca i ravnine u prostoru. Kronecker-Capellijev teorem. Homogeni sustavi linearnih jednadžbi. Partikularno rješenje. Gaussova metoda eliminacije. Cramerovo pravilo.

# Sadržaj

<b>5</b>	<b>Primjena determinanti</b>	<b>1</b>
5.1	Primjena determinanti u vektorskom računu . . . . .	1
5.1.1	Orijentacija koordinatnog sustava . . . . .	1
5.1.2	Vektorski produkt . . . . .	2
5.1.3	Mješoviti produkt . . . . .	6
5.1.4	Višestruki produkt . . . . .	7
5.2	Pravac i ravnina u prostoru . . . . .	10
5.2.1	Pravac u prostoru . . . . .	10
5.2.2	Pravac u ravnini . . . . .	14
5.2.3	Normalna jednadžba pravca u ravnini . . . . .	16
5.2.4	Ravnina u prostoru . . . . .	19
5.2.5	Projekcija vektora na ravninu i udaljenost točke do ravnine . . . . .	20
5.3	Hesseov normalni oblik jednadžbe pravca i ravnine . . . . .	23
5.3.1	Hesseov normalni oblik jednadžbe pravca u ravnini . . . . .	23
5.3.2	Hesseov normalni oblik jednadžbe ravnine u prostoru . . . . .	25
<b>6</b>	<b>Dodatak</b>	<b>27</b>
6.1	Egzistencijalni i univerzalni kvantifikator . . . . .	27
6.2	Nužni i dovoljni uvjeti . . . . .	27
6.3	Princip kontradikcije . . . . .	29
	<b>Bibliography</b>	<b>29</b>

## Poglavlje 5

# Primjena determinanti

### 5.1 Primjena determinanti u vektorskom računu

#### 5.1.1 Orijentacija koordinatnog sustava

Neka su  $(O; (\vec{e}_1, \vec{e}_2, \vec{e}_3))$  i  $(O'; (\vec{f}_1, \vec{f}_2, \vec{f}_3))$  dva pravokutna koordinatna sustava u prostoru, pri čemu su  $(\vec{e}_1, \vec{e}_2, \vec{e}_3)$ , odnosno  $(\vec{f}_1, \vec{f}_2, \vec{f}_3)$  njihove ortonormirane baze. Kažemo da su navedeni sustavi **jednako orijentirani** ako postoji kruto gibanje koje točku  $O$  prevodi u točku  $O'$ , a vektore  $\vec{e}_i$  u odgovarajuće vektore  $\vec{f}_i$  za  $i = 1, 2, 3$ . Na taj način skup svih pravokutnih koordinatnih sustava u prostoru dijeli se na dva disjunktna skupa. Sve koordinatne sustave koji su jednako orijentirani kao i sustav  $(O; (\vec{i}, \vec{j}, \vec{k}))$ , gdje se smjer vektora  $\vec{k}$  dobija **pravilom desnog vijka** zvat ćemo **desni koordinatni sustavi**, a one druge, **lijevi koordinatni sustavi**.

Navedimo jedan kriterij [2] na osnovi kojeg možemo ustanoviti jesu li sustavi  $(O; (\vec{e}_1, \vec{e}_2, \vec{e}_3))$  i  $(O'; (\vec{f}_1, \vec{f}_2, \vec{f}_3))$  jednako ili suprotno orijentirani. Budući da je  $(\vec{e}_1, \vec{e}_2, \vec{e}_3)$  baza u prostoru, onda svaki od vektora  $(\vec{f}_1, \vec{f}_2, \vec{f}_3)$  možemo na jedinstven način prikazati u toj bazi

$$\vec{f}_1 = a_1\vec{e}_1 + b_1\vec{e}_2 + c_1\vec{e}_3$$

$$\vec{f}_2 = a_2\vec{e}_1 + b_2\vec{e}_2 + c_2\vec{e}_3$$

$$\vec{f}_3 = a_3\vec{e}_1 + b_3\vec{e}_2 + c_3\vec{e}_3$$

S  $D$  označimo determinantu

$$D = \begin{vmatrix} a_1 & a_2 & a_3 \\ b_1 & b_2 & b_3 \\ c_1 & c_2 & c_3 \end{vmatrix}.$$

Može se pokazati da je uvijek  $D \neq 0$ . Ako je  $D > 0$ , navedeni sustavi su jednako orijentirani, a ako je  $D < 0$ , sustavi su suprotno orijentirani.

Slično, dva koordinatna sustava u ravnini  $(O; (\vec{e}_1, \vec{e}_2))$  i  $(O'; (\vec{f}_1, \vec{f}_2))$  su jednako (odnosno suprotno) orijentirana ako je  $D > 0$  (odnosno  $D < 0$ ), gdje je

$$\begin{aligned} \vec{f}_1 &= a_1 \vec{e}_1 + b_1 \vec{e}_2 \\ \vec{f}_2 &= a_2 \vec{e}_1 + b_2 \vec{e}_2 \end{aligned} \quad D = \begin{vmatrix} a_1 & a_2 \\ b_1 & b_2 \end{vmatrix},$$

i također dva koordinatna sustava na pravcu  $(O; (\vec{e}_1))$  i  $(O'; (\vec{f}_1))$  su jednako (odnosno suprotno) orijentirana ako je  $D > 0$  (odnosno  $D < 0$ ), gdje je  $\vec{f}_1 = D\vec{e}_1$ .

**Primjer 5.1.** Sustavi  $(O; (\vec{i}, \vec{j}, \vec{k}))$  i  $(O; (\vec{j}, \vec{k}, \vec{i}))$  jednako su orijentirani, a sustavi  $(O; (\vec{i}, \vec{j}, \vec{k}))$  i  $(O; (\vec{j}, \vec{i}, \vec{k}))$  suprotno.

Naime, u prvom slučaju imamo

$$\begin{aligned} \vec{j} &= 0 \cdot \vec{i} + 1 \cdot \vec{j} + 0 \cdot \vec{k} \\ \vec{k} &= 0 \cdot \vec{i} + 0 \cdot \vec{j} + 1 \cdot \vec{k} \\ \vec{i} &= 1 \cdot \vec{i} + 0 \cdot \vec{j} + 0 \cdot \vec{k} \end{aligned} \quad \implies \quad D = \begin{vmatrix} 0 & 1 & 0 \\ 0 & 0 & 1 \\ 1 & 0 & 0 \end{vmatrix} = 1 > 0,$$

a u drugom

$$\begin{aligned} \vec{j} &= 0 \cdot \vec{i} + 1 \cdot \vec{j} + 0 \cdot \vec{k} \\ \vec{i} &= 1 \cdot \vec{i} + 0 \cdot \vec{j} + 0 \cdot \vec{k} \\ \vec{k} &= 0 \cdot \vec{i} + 0 \cdot \vec{j} + 1 \cdot \vec{k} \end{aligned} \quad \implies \quad D = \begin{vmatrix} 0 & 1 & 0 \\ 1 & 0 & 0 \\ 0 & 0 & 1 \end{vmatrix} = -1 < 0.$$

### 5.1.2 Vektorski produkt

**Definicija 5.1.** Vektorski produkt dva nenulvektora  $\vec{a}, \vec{b} \in X_0(E)$  je vektor  $\vec{c} \in X_0(E)$  koji označavamo<sup>1</sup> s  $\vec{c} = \vec{a} \times \vec{b}$ , a koji ima sljedeća svojstva:

<sup>1</sup>engl.: cross product, vector product    njem.: Vektorprodukt, Kreuzprodukt

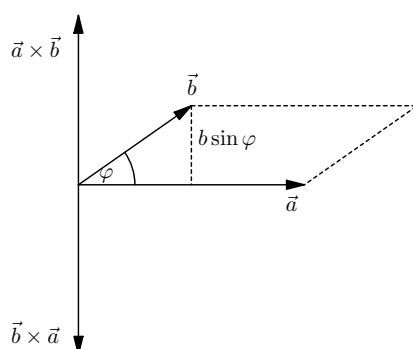
(i) norma vektora  $\vec{c} = \vec{a} \times \vec{b}$  jednaka je površini paralelograma određenog vektorima  $\vec{a}$  i  $\vec{b}$ , tj.

$$c = (\|\vec{c}\| = \|\vec{a} \times \vec{b}\|) = a \cdot b \sin \varphi, \quad \varphi = \angle(\vec{a}, \vec{b});$$

(ii) vektor  $\vec{c}$  okomit je na ravninu određenu vektorima  $\vec{a}, \vec{b}$ ;

(iii) smjer (orijentacija) vektora  $\vec{c}$  određen je pravilom desnog vijka.

Ako je jedan od vektora  $\vec{a}, \vec{b}$  nulvektor, vektor  $\vec{c}$  također je nulvektor.



Slika 5.1: Vektorski produkt

Primijetite da je vektorski produkt binarna operacija  $\times : X_0(E) \times X_0(E) \rightarrow X_0(E)$ , ali je uobičajeno da se i rezultat ove binarne operacije naziva vektorski produkt. Iz prethodne definicije neposredno slijede sljedeća svojstva vektorskog produkta<sup>2</sup>:

- |  |                          |
|--|--------------------------|
| 1° $\vec{a} \times \vec{b} = -\vec{b} \times \vec{a}$  | antikomutativnost        |
| 2° $\lambda(\vec{a} \times \vec{b}) = (\lambda\vec{a}) \times \vec{b} = \vec{a} \times (\lambda\vec{b})$ | homogenost               |
| 3° $(\vec{a} + \vec{b}) \times \vec{c} = \vec{a} \times \vec{c} + \vec{b} \times \vec{c}$                | distributivnost s desna  |
| $\vec{a} \times (\vec{b} + \vec{c}) = \vec{a} \times \vec{b} + \vec{a} \times \vec{c}$                   | distributivnost s lijeva |

**Primjer 5.2.** Iz definicije vektorskog produkta neposredno slijedi tvrdnja da su nenul vektori  $\vec{a}$  i  $\vec{b}$  **kolinearni** onda i samo onda ako je  $\vec{a} \times \vec{b} = \vec{0}$ .

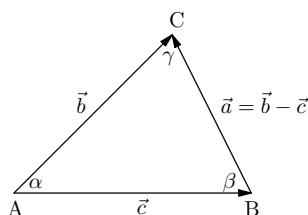
<sup>2</sup>Dokaz svojstav 3° nije trivijalan, a može se vidjeti u Dodatku 5 u [1]

**Primjer 5.3.** Koristeći Pitagorin teorem za trigonometrijske funkcije:  $\sin^2 \varphi + \cos^2 \varphi = 1$ , lako se pokaže da vrijedi formula, koja povezuje vektorski i skalarni produkt

$$\|\vec{a} \times \vec{b}\|^2 = a^2 \cdot b^2 - (\vec{a} \cdot \vec{b})^2.$$

**Primjer 5.4.** (Poučak o sinusima) U kosokutnom trokutu sa stranicama  $a, b, c$  i odgovarajućim kutovima nasuprot njih  $\alpha, \beta, \gamma$  vrijedi

$$a : b : c = \sin \alpha : \sin \beta : \sin \gamma, \quad \text{odnosno} \quad \frac{a}{\sin \alpha} = \frac{b}{\sin \beta} = \frac{c}{\sin \gamma}.$$



Slika 5.2: Poučak o sinusima

Ako stranice trokuta orijentiramo kao na slici 5.2, vrijedi

$$\vec{a} = \vec{b} - \vec{c}. \quad (*)$$

Množeći vektorski s desna ovu jednakost vektorom  $\vec{c}$  dobivamo

$$\vec{a} \times \vec{c} = \vec{b} \times \vec{c} - \vec{c} \times \vec{c}.$$

Kako je  $\vec{c} \times \vec{c} = \vec{0}$ , računajući norme vektora na lijevoj i desnoj strani, dobivamo

$$\|\vec{a} \times \vec{c}\| = \|\vec{b} \times \vec{c}\| \implies a \sin(\pi - \beta) = b \sin \alpha.$$

Kako je (koristeći primjerice adicioni teorem za trigonometrijsku funkciju sinus)

$\sin(\pi - \beta) = \sin \beta$ , dobivamo

$$a : b = \sin \alpha : \sin \beta. \quad (**)$$

- Množeći vektorski s desna jednakost (\*) vektorom  $\vec{b}$  na sličan način pokažite da vrijedi

$$a : c = \sin \alpha : \sin \gamma. \quad (***)$$

- Koristeći jednakosti (\*\*) i (\*\*\*) pokažite da vrijedi i treći omjer

$$b : c = \sin \beta : \sin \gamma.$$

**Primjer 5.5.** Načinimo tablicu množenja (vektorski produkt) za ortonormiranu bazu  $\vec{i}, \vec{j}, \vec{k}$  vektorskog prostora  $X_0(E)$ .

$$\begin{array}{c|ccc} \times & \vec{i} & \vec{j} & \vec{k} \\ \hline \vec{i} & \vec{0} & \vec{k} & -\vec{j} \\ \vec{j} & -\vec{k} & \vec{0} & \vec{i} \\ \vec{k} & \vec{j} & -\vec{i} & \vec{0} \end{array}$$

**Teorem 5.1.** Za vektore  $\vec{a}, \vec{b} \in X_0(E)$  zadane u pravokutnom koordinatnom sustavu  $(O; (\vec{i}, \vec{j}, \vec{k}))$ :

$$\begin{aligned} \vec{a} &= a_1 \vec{i} + a_2 \vec{j} + a_3 \vec{k} \\ \vec{b} &= b_1 \vec{i} + b_2 \vec{j} + b_3 \vec{k} \end{aligned}$$

vrijedi formula<sup>3</sup>

$$\vec{a} \times \vec{b} = \begin{vmatrix} \vec{i} & \vec{j} & \vec{k} \\ a_1 & a_2 & a_3 \\ b_1 & b_2 & b_3 \end{vmatrix}. \quad (5.1)$$

*Dokaz.* Primjenom tablice množenja iz prethodnog primjera dobivamo

$$\begin{aligned} \vec{a} \times \vec{b} &= (a_1 \vec{i} + a_2 \vec{j} + a_3 \vec{k}) \times (b_1 \vec{i} + b_2 \vec{j} + b_3 \vec{k}) \\ &= -a_2 b_1 \vec{k} + a_3 b_1 \vec{j} + a_1 b_2 \vec{k} - a_3 b_2 \vec{i} - a_1 b_3 \vec{j} + a_2 b_3 \vec{i} \\ &= \vec{i}(a_2 b_3 - a_3 b_2) - \vec{j}(a_1 b_3 - a_3 b_1) + \vec{k}(a_1 b_2 - a_2 b_1) \\ &= \vec{i} \begin{vmatrix} a_2 & a_3 \\ b_2 & b_3 \end{vmatrix} - \vec{j} \begin{vmatrix} a_1 & a_3 \\ b_1 & b_3 \end{vmatrix} + \vec{k} \begin{vmatrix} a_1 & a_2 \\ b_1 & b_2 \end{vmatrix}, \end{aligned}$$

iz čega neposredno slijedi formula (5.1).  $\square$

<sup>3</sup>U programskom sustavu *Mathematica* vektorski produkt dobivamo naredbom `Cross[a, b]`, gdje su  $a, b$  liste.

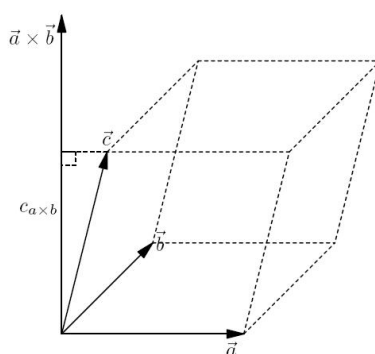


### 5.1.3 Mješoviti produkt

**Mješoviti produkt** tri vektora  $\vec{a}, \vec{b}, \vec{c} \in X_0(E)$  je realni broj koji označavamo

$$(\vec{a}, \vec{b}, \vec{c}) := (\vec{a} \times \vec{b}) \cdot \vec{c}. \quad (5.2)$$

Pokušajmo geometrijski interpretirati mješoviti produkt. Pretpostavimo da su zadana tri linearno nezavisna vektora  $\vec{a}, \vec{b}, \vec{c} \in X_0(E)$  kao na slici.



Slika 5.3: Mješoviti produkt

Vektorski produkt  $\vec{a} \times \vec{b}$  je vektor okomit na ravninu određenu vektorima  $\vec{a}$  i  $\vec{b}$ , a njegova duljina (norma) jednaka je površini paralelograma kojeg određuju ti vektori. Skalarni produkt naznačen u (5.2) možemo shvatiti kao produkt norme vektora  $\vec{a} \times \vec{b}$  (tj. površine paralelograma) i projekcije vektora  $\vec{c}$  na vektor  $\vec{a} \times \vec{b}$ . Ovu projekciju možemo shvatiti kao visinu paralelepipeda određenog vektorm  $\vec{a}, \vec{b}, \vec{c}$ , a onda mješoviti produkt vektora  $\vec{a}, \vec{b}, \vec{c}$  predstavlja (do na predznak) volumen tog paralelepipeda.

Iz prethodne definicije i njene geometrijske interpretacije neposredno slijedi da svaka ciklička promjena redosljeda vektora  $\vec{a}, \vec{b}, \vec{c}$  ne mijenja vrijednost njihovog mješovitog produkta:

$$(\vec{a}, \vec{b}, \vec{c}) = (\vec{b}, \vec{c}, \vec{a}) = (\vec{c}, \vec{a}, \vec{b}).$$

S druge strane, svaka neciklička promjena redosljeda vektora  $\vec{a}, \vec{b}, \vec{c}$  mijenja predznak njihovog mješovitog produkta.

**Primjer 5.6.** Iz definicije mješovitog produkta i njene geometrijske interpretacije neposredno slijedi tvrdnja da su tri vektora  $\vec{a}, \vec{b}, \vec{c}$  **komplanarni** onda i samo onda ako je  $(\vec{a}, \vec{b}, \vec{c}) = 0$ .

**Teorem 5.2.** Za vektore  $\vec{a}, \vec{b}, \vec{c} \in X_0(E)$  zadane u pravokutnom koordinatnom sustavu  $(O; (\vec{i}, \vec{j}, \vec{k}))$ :

$$\begin{aligned}\vec{a} &= a_1\vec{i} + a_2\vec{j} + a_3\vec{k} \\ \vec{b} &= b_1\vec{i} + b_2\vec{j} + b_3\vec{k} \\ \vec{c} &= c_1\vec{i} + c_2\vec{j} + c_3\vec{k}\end{aligned}$$

vrijedi formula

$$(\vec{a}, \vec{b}, \vec{c}) = \begin{vmatrix} a_1 & a_2 & a_3 \\ b_1 & b_2 & b_3 \\ c_1 & c_2 & c_3 \end{vmatrix}. \quad (5.3)$$

*Dokaz.* Na osnovi definicija za skalarno i vektorsko množenje vektora dobivamo

$$(\vec{a}, \vec{b}, \vec{c}) = (\vec{a} \times \vec{b}) \cdot \vec{c} = \begin{vmatrix} \vec{i} & \vec{j} & \vec{k} \\ a_1 & a_2 & a_3 \\ b_1 & b_2 & b_3 \end{vmatrix} \cdot (c_1\vec{i} + c_2\vec{j} + c_3\vec{k}) = \begin{vmatrix} c_1 & c_2 & c_3 \\ a_1 & a_2 & a_3 \\ b_1 & b_2 & b_3 \end{vmatrix}.$$

Sukcesivnom izmjenom prvog i drugog, te drugog i trećeg retka ove determinante, dobivamo traženu formulu (5.3). Sjetite se da svaka izmjena redaka determinante mijenja njezin predznak.  $\square$

### 5.1.4 Višestruki produkt

Pod **višestrukim vektorsko – vektorskim produktom** tri vektora  $\vec{a}, \vec{b}, \vec{c} \in X_0(E)$  podrazumijevamo produkt  $\vec{a} \times (\vec{b} \times \vec{c})$  ili  $(\vec{a} \times \vec{b}) \times \vec{c}$ .

Odmah primijetimo da za višestruki produkt ne vrijedi asocijativnost

$$\vec{a} \times (\vec{b} \times \vec{c}) \neq (\vec{a} \times \vec{b}) \times \vec{c}.$$

Ako je primjerice

$$\vec{a} = \vec{j}, \quad \vec{b} = \vec{j}, \quad \vec{c} = \vec{k},$$

onda vrijedi

$$\begin{aligned}\vec{a} \times (\vec{b} \times \vec{c}) &= \vec{j} \times (\vec{j} \times \vec{k}) = \vec{j} \times \vec{i} = -\vec{k}, \\ (\vec{a} \times \vec{b}) \times \vec{c} &= (\vec{j} \times \vec{j}) \times \vec{k} = \vec{0}.\end{aligned}$$

**Zadatak 5.1.** Pokažite da za tri vektora  $\vec{a}, \vec{b}, \vec{c} \in X_0(E)$  vrijedi formula

$$\vec{a} \times (\vec{b} \times \vec{c}) = (\vec{a} \cdot \vec{c})\vec{b} - (\vec{a} \cdot \vec{b})\vec{c}. \quad (5.4)$$

**Uputa:** Ako stavimo  $\vec{a} = a_1\vec{i} + a_2\vec{j} + a_3\vec{k}$ ,  $\vec{b} = b_1\vec{i} + b_2\vec{j} + b_3\vec{k}$  i  $\vec{c} = c_1\vec{i} + c_2\vec{j} + c_3\vec{k}$ , direktnim izračunavanjem lijeve i desne strane dobivamo traženu formulu.

Cikličkom promjenom vektora  $\vec{a}, \vec{b}, \vec{c}$  u (5.4) dobivamo još dvije formule

$$\vec{b} \times (\vec{c} \times \vec{a}) = (\vec{b} \cdot \vec{a})\vec{c} - (\vec{b} \cdot \vec{c})\vec{a} \quad (5.5)$$

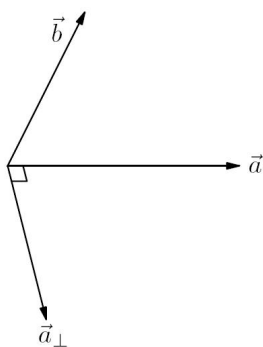
$$\vec{c} \times (\vec{a} \times \vec{b}) = (\vec{c} \cdot \vec{b})\vec{a} - (\vec{c} \cdot \vec{a})\vec{b} \quad (5.6)$$

Zbrajanjem jednakosti (5.4, 5.5, 5.6) dobivamo poznati **Jacobijev identitet**

$$\vec{a} \times (\vec{b} \times \vec{c}) + \vec{b} \times (\vec{c} \times \vec{a}) + \vec{c} \times (\vec{a} \times \vec{b}) = \vec{0}. \quad (5.7)$$

Stavimo li u (5.4)  $\vec{c} = \vec{a} \neq \vec{0}$ , dobivamo formulu

$$\vec{b} = \frac{\vec{a} \cdot \vec{b}}{a^2}\vec{a} + \frac{1}{a^2}\vec{a} \times (\vec{b} \times \vec{a}). \quad (5.8)$$



Slika 5.4: Prikaz vektora  $\vec{b}$  kao linearne kombinacije vektora  $\vec{a}$  i vektora  $\vec{a}_\perp$

Kako je vektor  $\vec{a}_\perp = \vec{a} \times (\vec{b} \times \vec{a})$  okomit na vektor  $\vec{a}$ , onda formula (5.8) daje prikaz vektora  $\vec{b}$  kao linearne kombinacije vektora  $\vec{a}$  i vektora  $\vec{a}_\perp$  okomitog na vektor  $\vec{a}$ . Posebno će nam biti interesantan slučaj kada je  $\vec{a} := \vec{u}$  jedinični vektor. Tada prethodna formula postaje jednostavnija

$$\vec{b} = (\vec{u} \cdot \vec{b})\vec{u} + \vec{u} \times (\vec{b} \times \vec{u}). \quad (5.9)$$

Prvi vektor na desnoj strani prepoznamo kao projekciju vektora  $\vec{b}$  na pravac određen jediničnim vektorom  $\vec{u}$ . Drugi vektor prema (5.4) možemo zapisati kao

$$\vec{u} \times (\vec{b} \times \vec{u}) = \vec{b} - (\vec{b}\vec{u})\vec{u} =: \vec{b}'.$$

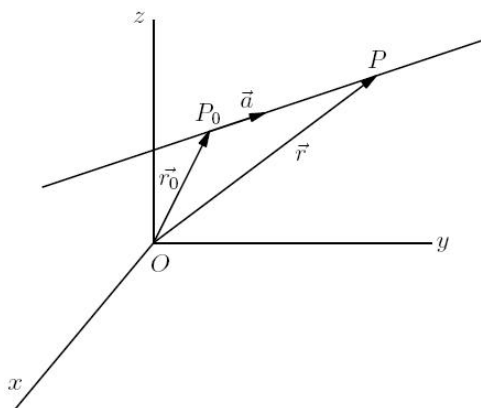
Vektor  $\vec{b}'$  prepoznamo kao projekciju vektora  $\vec{b}$  na vektor  $\vec{u}_\perp$ , koji je okomit na vektor  $\vec{u}$ .

## 5.2 Pravac i ravnina u prostoru

### 5.2.1 Pravac u prostoru

Neka je  $(O; (\vec{i}, \vec{j}, \vec{k}))$  pravokutni koordinatni sustav u prostoru. Pravac  $p$  u prostoru može biti zadan

- (i) točkom  $P_0 \in E$  i vektorom  $\vec{a} \in X_0(E)$  ili
- (ii) s dvije točke  $P_0, P_1 \in E$ .



Slika 5.5: Zadavanje pravca u prostoru s točkom  $P_0 \in E$  i vektorom  $\vec{a} \in X_0(E)$

- (i) Neka je zadana točka  $P_0 = (x_0, y_0, z_0) \in \mathbb{R}^3$  s radijvektorom  $\vec{r}_0$  i vektor  $\vec{a} = a_1\vec{i} + a_2\vec{j} + a_3\vec{k} \in X_0(E)$ . Pravac  $p$  definirat ćemo kao skup svih točaka  $P \in E$ , čiji radij vektor  $\vec{r}$  možemo zapisati kao

$$\vec{r} = \vec{r}_0 + \lambda\vec{a}, \quad \lambda \in \mathbb{R}. \quad (5.10)$$

Prikaz (5.10) obično zovemo **parametarski oblik jednadžbe pravca**  $p$ . U koordinatnom obliku to je

$$\begin{aligned} x &= x_0 + \lambda a_1 \\ y &= y_0 + \lambda a_2 \\ z &= z_0 + \lambda a_3 \end{aligned} \quad (5.11)$$

Eliminacijom parametra  $\lambda$  dobivamo **kanonski oblik jednadžbe pravca  $p$**

$$\frac{x - x_0}{a_1} = \frac{y - y_0}{a_2} = \frac{z - z_0}{a_3}, \quad a_1, a_2, a_3 \neq 0. \quad (5.12)$$

**Primjer 5.7.** Ako je  $a_3 = 0$ , onda iz (5.18) slijedi

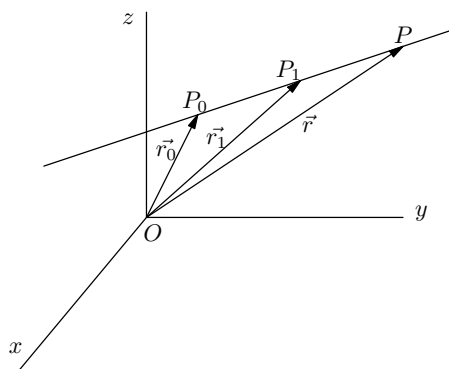
$$z = z_0.$$

To znači da sve točke pravca  $p$  imaju istu aplikatu  $z_0$ , odnosno da je pravac paralelan s  $(x, y)$ -ravninom.

**Primjer 5.8.** Ako je  $a_2 = a_3 = 0$ , onda iz (5.18) slijedi

$$y = y_0, \quad z = z_0.$$

To znači da sve točke pravca  $p$  imaju istu ordinatu  $y_0$  i aplikatu  $z_0$ , odnosno da je pravac paralelan s osi  $x$ .



Slika 5.6: Zadavanje pravca u prostoru s dvije točke  $P_0, P_1 \in E$ .

- (ii) Neka su  $P_0 = (x_0, y_0, z_0), P_1 = (x_1, y_1, z_1) \in E$  dvije različite točke. Uz oznaku  $\vec{a} = \overrightarrow{P_0P_1}$  ponovo smo u situaciji opisanoj pod (i). Ako s  $\vec{r}_0$  označimo radij-vektor točke  $P_0$ , a s  $\vec{r}_1$  radij-vektor točke  $P_1$ , tada je  $\vec{a} = \vec{r}_1 - \vec{r}_0$ , pa **parametarski oblik jednadžbe pravca  $p$**  u ovom slučaju glasi

$$\vec{r} = \vec{r}_0 + \lambda(\vec{r}_1 - \vec{r}_0), \quad \lambda \in \mathbb{R}, \quad (5.13)$$

odnosno

$$\begin{aligned}x &= x_0 + \lambda(x_1 - x_0) \\y &= y_0 + \lambda(y_1 - y_0) \\z &= z_0 + \lambda(z_1 - z_0)\end{aligned}\tag{5.14}$$

Eliminacijom parametra  $\lambda$  dobivamo **kanonski oblik jednadžbe pravca**  $p$ , koji prolazi točkama  $P_0, P_1 \in E$

$$\frac{x - x_0}{x_1 - x_0} = \frac{y - y_0}{y_1 - y_0} = \frac{z - z_0}{z_1 - z_0}, \quad x_1 \neq x_0, \quad y_1 \neq y_0, \quad z_1 \neq z_0.\tag{5.15}$$

**Zadatak 5.2.** Kako glasi jednadžba pravca određenog s dvije točke  $P_0, P_1 \in E$ , koje

a) leže u ravnini paralelnoj nekoj od koordinatnih ravnina?

a) leže na pravcu paralelnom nekoj od koordinatnih osi?

**Primjer 5.9.** *Pravac  $p$  u prostoru zadan je točkom  $P_0$  i jediničnim vektorom  $\vec{u}$ . Odredimo udaljenost točke  $Q$  do pravca  $p$  i njenu projekciju  $Q'$  na pravac  $p$  (vidi Sliku 5.7).*

Ako definiramo vektor  $\vec{c} = \vec{r}_Q - \vec{r}_{P_0}$ , onda je njegova projekcija u smjeru jediničnog vektora  $\vec{u}$  zadana s  $(\vec{c} \cdot \vec{u})\vec{u}$ , a udaljenost točke  $Q$  do pravca  $p$  tada je zadana s

$$d(Q, p) = \|\vec{c} - (\vec{c} \cdot \vec{u})\vec{u}\|$$

Specijalno neka je pravac  $p$  određen točkom  $P_0 = (4, 2, 1)$  i jediničnim vektorom  $\vec{u} = \frac{1}{3}\vec{i} + \frac{2}{3}\vec{j} + \frac{2}{3}\vec{k}$ . Za  $Q = (2, 1, 2)$  dobivamo vektor  $\vec{c} = \overrightarrow{P_0Q} = -2\vec{i} - \vec{j} + \vec{k}$  i projekciju vektora  $\vec{c}$  u smjeru vektora  $\vec{u}$ :  $\overrightarrow{P_0Q'} = -\frac{2}{9}\vec{i} - \frac{4}{9}\vec{j} - \frac{4}{9}\vec{k}$ .

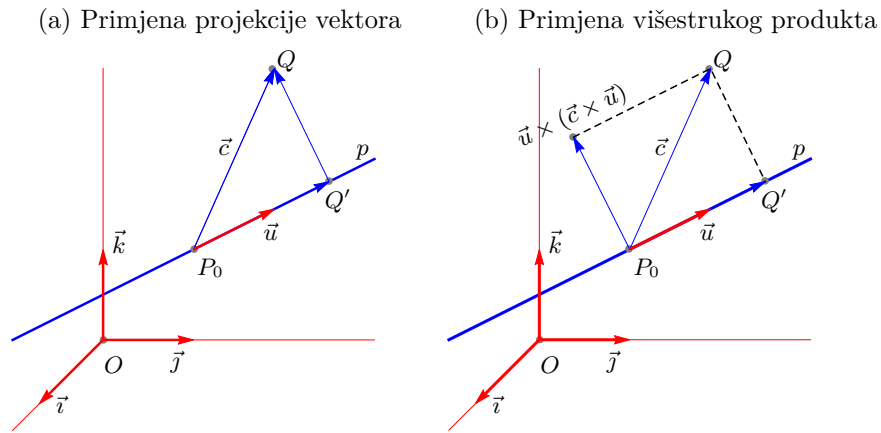
Kako je  $\vec{r}_{Q'} = \vec{r}_{P_0} + \overrightarrow{P_0Q'}$ , dobivamo  $Q' = \frac{1}{9}(34, 14, 5)$ . Nadalje,  $\overrightarrow{Q'Q} = -\frac{16}{9}\vec{i} - \frac{5}{9}\vec{j} + \frac{13}{9}\vec{k}$  iz čega slijedi  $d(Q, p) = \|\overrightarrow{Q'Q}\| = \frac{5\sqrt{2}}{3}$ .

Isti problem možemo riješiti primjenom formule (5.9)

$$\vec{c} = (\vec{c} \cdot \vec{u})\vec{u} + \vec{u} \times (\vec{c} \times \vec{u}).\tag{5.16}$$

Pri tome (vidi Sliku 5.7):

- $(\vec{c} \cdot \vec{u})\vec{u}$  je projekcija vektora  $\vec{c}$  na pravac  $p$ ;



Slika 5.7: Udaljenost pravca točke  $Q$  do pravca  $p$  u prostoru zadanog točkom  $P_0$  i jediničnim vektorom  $\vec{u}$  uz primjenu (a) projekcije vektore i uz primjenu (b) višestrukog produkta

- vektor  $\vec{u} \times (\vec{c} \times \vec{u})$  je okomit na vektor  $\vec{u}$  i jednak vektoru  $\overrightarrow{Q'Q}$ , a njegova duljina predstavlja udaljenost točke  $Q$  do pravca  $p$ . Kako je  $\vec{u} \perp (\vec{c} \times \vec{u})$ , vrijedi

$$d(Q, p) = \|\vec{u} \times (\vec{c} \times \vec{u})\| = \|\vec{c} \times \vec{u}\|. \quad (5.17)$$

Specijalno, neka je pravac određen točkom  $P_0 = (4, 2, 1)$  i jediničnim vektorom  $\vec{u} = \frac{1}{3}\vec{i} + \frac{2}{3}\vec{j} + \frac{2}{3}\vec{k}$ . Za točku  $Q = (2, 1, 2)$  dobivamo vektor  $\vec{c} = \overrightarrow{P_0Q} = -2\vec{i} - \vec{j} + \vec{k}$ .

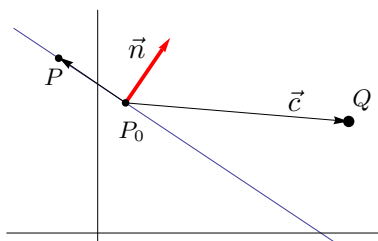
Kako je  $\vec{c} \times \vec{u} = -\frac{4}{3}\vec{i} + \frac{5}{3}\vec{j} - \vec{k}$ , primjenom formule (5.17) dobivamo  $d(Q, p) = \frac{5\sqrt{2}}{3}$ .



### 5.2.2 Pravec u ravnini

U ravnini se pravac također može zadati pomoću jedne točke i vektora ili pomoću dvije točke, ali u ovom slučaju važan je još jedan pristup: pravac može biti zadan jednom točkom i normalom.

Neka je  $(O; (\vec{i}, \vec{j}))$  pravokutni koordinatni sustav u ravnini. Pravec  $p$  zadat ćemo točkom  $P_0 = (x_0, y_0)$  i normalom  $\vec{n} = a\vec{i} + b\vec{j}$  na pravac  $p$  (vidi Sliku 5.8).



Slika 5.8: Udaljenost točke do pravca

Neka je  $P = (x, y)$  proizvoljna točka na pravcu  $p$ . Tada su vektori  $\overrightarrow{P_0P}$  i  $\vec{n}$  okomiti, tj.

$$\overrightarrow{P_0P} \cdot \vec{n} = 0,$$

iz čega dobivamo jednadžbu pravca  $p$

$$a(x - x_0) + b(y - y_0) = 0,$$

odnosno

$$ax + by + c = 0, \quad c = -ax_0 - by_0. \quad (5.18)$$

U cilju određivanja udaljenosti točke  $Q$  do pravca  $p$  odredit ćemo projekciju vektora  $\overrightarrow{P_0Q}$  na normalu  $\vec{n}$  (vidi Sliku 5.8). Jedinični vektor normale je

$$\vec{n}_0 = \frac{\vec{n}}{\|\vec{n}\|} = \frac{a\vec{i} + b\vec{j}}{\sqrt{a^2 + b^2}},$$

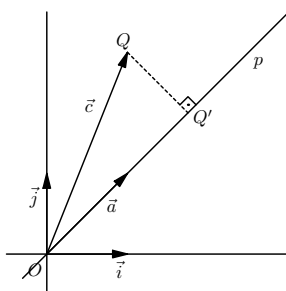
a udaljenost točke  $Q = (x_Q, y_Q)$  do pravca  $p$  tada je

$$d(Q, p) = \|(\vec{c} \cdot \vec{n}_0)\vec{n}_0\| = |(\vec{c} \cdot \vec{n}_0)| = \frac{|a(x_Q - x_0) + b(y_Q - y_0)|}{\sqrt{a^2 + b^2}}. \quad (5.19)$$

**Primjer 5.10.** Udaljenost točke  $Q = (1, 1)$  do pravca  $3x + 4y - 1 = 0$  u ravnini je  $d(Q, p) = \frac{6}{5}$ .

**Zadatak 5.3.** Pokažite da je udaljenost točke  $Q = (x_Q, y_Q)$  do pravca  $p$  zadanog u eksplicitnom obliku  $y = kx + l$  zadana s

$$d(Q, p) = \frac{|kx_Q + l - y_Q|}{\sqrt{k^2 + 1}}.$$



Slika 5.9: Udaljenost točke do pravca kroz ishodište

**Primjer 5.11.** Pravac  $p$  prolazi ishodištem  $O$  pravokutnog koordinatnog sustava  $(O; (\vec{i}, \vec{j}))$  i zadan je vektorom  $\vec{a} = \vec{i} + \vec{j}$ . Treba odrediti udaljenost točke  $Q = (1, 3)$  do pravca  $p$  i projekciju točke  $Q$  na pravac  $p$  (vidi Sliku 5.9).

Projekcija vektora  $\vec{c} := \overrightarrow{OQ}$  na pravac  $p$  (a onda i projekcija točke  $Q$  na pravac  $p$ ) zadana je vektorom  $\overrightarrow{OQ'} = (\vec{c} \cdot \vec{u})\vec{u}$ , gdje je  $\vec{u} = \frac{\vec{a}}{\|\vec{a}\|}$  jedinični vektor u smjeru vektora  $a$ . Dobivamo  $Q' = (2, 2)$ .

Udaljenost točke  $Q$  do pravca  $p$  zadana je duljinom vektora  $\overrightarrow{Q'Q} = \vec{c} - (\vec{c} \cdot \vec{u})\vec{u}$ . Dobivamo  $d(Q', Q) = \|\overrightarrow{Q'Q}\| = \sqrt{2}$ .

**Zadatak 5.4.** Odredite projekciju točke  $Q$  na pravac  $p$  zadan točkom  $P_0 = (2, 1)$  i vektorom  $\vec{a} = \vec{i} + \vec{j}$ . Kolika je udaljenost točke  $Q = (1, 3)$  do pravca  $p$ ?

**Uputa:** koristite formulu (5.9).

Općenito, pravac u ravnini zadajemo u implicitnom obliku:

$$ax + by + c = 0, \quad a^2 + b^2 \neq 0. \quad (5.20)$$

**Propozicija 5.1.** Neka je  $(O; (\vec{i}, \vec{j}))$  pravokutni koordinatni sustav u ravnini u kojemu je jednadžbom (5.20) zadan pravac  $p$  u toj ravnini. Tada:

- (i)  $\vec{n} = a\vec{i} + b\vec{j}$  vektor je normale na pravac  $p$ ,
- (ii) Vektori  $\vec{u}_1 = b\vec{i} - a\vec{j}$ , odnosno  $\vec{u}_2 = -b\vec{i} + a\vec{j}$ , određuju smjer pravca  $p$ ,
- (iii) Ako je  $P_0 = (x_0, y_0)^T$  točka na pravcu  $p$ , onda je  $c = -ax_0 - by_0$ .

*Dokaz.* (i) Neka su  $P_1 = (x_1, y_1)^T$ ,  $P_2 = (x_2, y_2)^T$  dvije različite točke koje leže na pravcu  $p$ . To znači da je

$$ax_s + by_s + c = 0, \quad s = 1, 2.$$

Oduzimanjem ovih jednadžbi dobivamo:

$$a(x_2 - x_1) + b(y_2 - y_1) = 0, \quad (5.21)$$

što pokazuje da su vektori  $\vec{n} = a\vec{i} + b\vec{j}$  i  $\overrightarrow{P_1P_2}$  okomiti, tj. da je  $\vec{n}$  normala na pravac  $p$ .

(ii) Direktnom provjerom može se vidjeti da su vektori  $\vec{u}_1, \vec{u}_2$  okomiti na vektor  $\vec{n}$  pa time određuju smjer pravca  $p$ .

(iii) Ako je  $P_0 = (x_0, y_0)^T$  točka na pravcu  $p$ , onda je  $\overrightarrow{P_0P} \perp \vec{n}$  pa vrijedi  $a(x - x_0) + b(y - y_0) = 0$ , odnosno  $ax + by + c = 0$ , gdje je  $c = -ax_0 - by_0$ .  $\square$

### 5.2.3 Normalna jednadžba pravca u ravnini

Nadalje, bez smanjenja općenitosti možemo pretpostaviti da je pravac (5.20) zadan uz uvjet  $a^2 + b^2 = 1$ . Naime, u protivnom dijeljenjem jednadžbe (5.20) s  $\sqrt{a^2 + b^2}$  dobivamo

$$\hat{a}x + \hat{b}y + \hat{c} = 0, \quad \hat{a}^2 + \hat{b}^2 = 1, \quad (5.22)$$

gdje je  $\hat{a} = \frac{a}{\sqrt{a^2 + b^2}}$ ,  $\hat{b} = \frac{b}{\sqrt{a^2 + b^2}}$ ,  $\hat{c} = \frac{c}{\sqrt{a^2 + b^2}}$ . Jednadžbu (5.22) zvat ćemo normalna jednadžba pravca u ravnini. Analogno Propoziciji 5.1 vrijedi:

**Propozicija 5.2.** Neka je  $(O; (\vec{i}, \vec{j}))$  pravokutni koordinatni sustav u ravnini u kojemu je normalnom jednadžbom zadan pravac  $p$  u toj ravnini. Tada:

- (i)  $\vec{n}_0 = \hat{a}\vec{i} + \hat{b}\vec{j}$  jedinični je vektor normale na pravac  $p$ ,

(ii) Jedinični vektori  $\vec{u}_1 = b\vec{i} - a\vec{j}$ , odnosno  $\vec{u}_2 = -b\vec{i} + a\vec{j}$ , određuju smjer pravca  $p$ ,

(iii) Ako je  $P_0 = (x_0, y_0)^T$  točka na pravcu  $p$  zadanom s (5.22), onda je  $c = -ax_0 - by_0$ , a jednačba (5.22) postaje

$$a(x - x_0) + b(y - y_0) = 0, \quad \hat{a}^2 + \hat{b}^2 = 1. \quad (5.23)$$

Pri tome parametar  $c$  do na predznak određuje udaljenost ishodišta  $O$  do pravca  $p$ .

Dokaz Propozicije 5.2 može se provesti slično dokazu Propozicije 5.1. Posebno dokažimo samo tvrdnju (iii). Ako je  $P_0 = (x_0, y_0)^T$  točka na pravcu  $p$ , onda je  $c = -ax_0 - by_0$ . Ako s  $\vec{r}_0$  označimo radij-vektor točke  $P_0$ , onda je  $c = -(\vec{r}_0, \vec{n}_0)$ , a kako je  $(\vec{r}_0, \vec{n}_0)\vec{n}_0$  projekcija vektora  $\vec{r}_0$  na  $\vec{n}_0$ , slijedi tvrdnja (iii) Propozicije 5.2.

Sljedeća lema daje eksplicitne formule za udaljenost točke do pravca i za ortogonalnu projekciju točke na pravac zadan s (5.22).

**Lema 5.1.** Neka je  $(O; (\vec{i}, \vec{j}))$  pravokutni koordinatni sustav u ravnini, neka je  $ax + by + c = 0$ ,  $a^2 + b^2 = 1$  normalna jednačba pravca  $p$  u ravnini i neka je  $Q = (x_Q, y_Q)^T \in \mathbb{R}^2$  proizvoljna točka u ravnini. Tada vrijedi:

(i) Udaljenost točke  $Q$  do pravca  $p$  zadana je formulom:

$$d(Q, p) = |ax_Q + by_Q + c|, \quad (5.24)$$

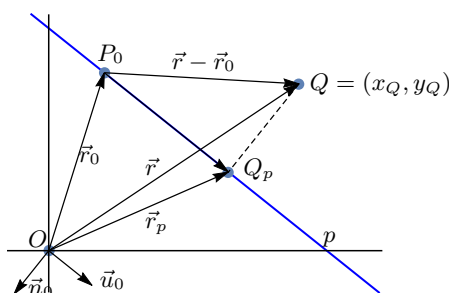
(ii) Ortogonalna projekcija  $Q_p$  točke  $Q$  na pravac  $p$  zadana je radij vektorom:

$$\vec{r}_p = (\vec{r}, \vec{u}_0)\vec{u}_0 - c\vec{n}_0, \quad (5.25)$$

gdje je  $\vec{r} = x_Q\vec{i} + y_Q\vec{j}$  radij vektor točke  $Q$ ,  $\vec{n}_0 = a\vec{i} + b\vec{j}$  jedinični vektor normale, a  $\vec{u}_0 = b\vec{i} - a\vec{j}$  jedinični vektor u smjeru pravca  $p$ .

*Dokaz.* (i) Neka je  $P_0 = (x_0, y_0)^T$  točka na pravcu  $p$  i

$$(\overrightarrow{P_0Q})_{\vec{n}} = (\overrightarrow{P_0Q} \cdot \vec{n}_0)\vec{n}_0$$



Slika 5.10: Udaljenost točke do pravca i projekcija točke na pravac

ortogonalna projekcije vektora  $\overrightarrow{P_0Q} = (x_Q - x_0)\vec{i} + (y_Q - y_0)\vec{j}$  na normalu pravca  $p$  zadanu jediničnim vektorom  $\vec{n}_0 = a\vec{i} + b\vec{j}$  (vidi Sliku 5.10).

Udaljenost točke  $Q$  do pravca  $p$  tada je:

$$\begin{aligned} d(Q, p) &= \|(\overrightarrow{P_0Q} \cdot \vec{n}_0)\vec{n}_0\| = |(\overrightarrow{P_0Q} \cdot \vec{n}_0)| \\ &= |a(x_Q - x_0) + b(y_Q - y_0)| = |ax_Q + by_Q - ax_0 - by_0|. \end{aligned}$$

Kako je prema Propoziciji 5.2,  $c = -ax_0 - by_0$ , slijedi tražena tvrdnja.

(ii) Ako s  $\vec{r}_0$  označimo radij vektor točke  $P_0$ , onda je  $\overrightarrow{P_0Q} = \vec{r} - \vec{r}_0$ , a radij-vektor projekcije  $Q_p$  točke  $Q$  na pravac  $p$  zadan je s (vidi Sliku 5.10):

$$\begin{aligned} \vec{r}_p &= \vec{r}_0 + (\vec{r} - \vec{r}_0, \vec{u}_0)\vec{u}_0 \\ &= (\vec{r}, \vec{u}_0)\vec{u}_0 + \vec{r}_0 - (\vec{r}_0, \vec{u}_0)\vec{u}_0. \end{aligned} \quad (5.26)$$

Kako su  $\vec{u}_0, \vec{n}_0$  dva međusobno okomita jedinična vektora, vrijedi:

$$\vec{r}_0 = (\vec{r}_0, \vec{u}_0)\vec{u}_0 + (\vec{r}_0, \vec{n}_0)\vec{n}_0,$$

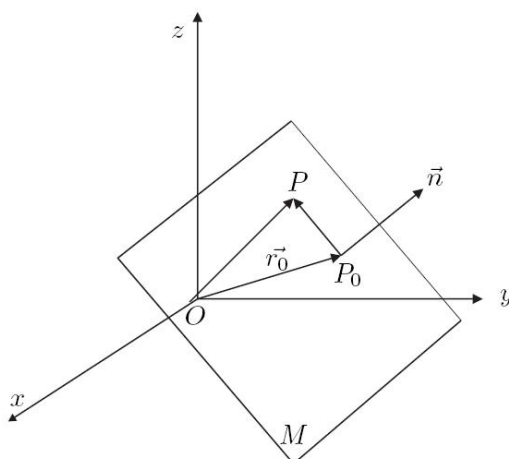
iz čega slijedi  $\vec{r}_0 - (\vec{r}_0, \vec{u}_0)\vec{u}_0 = (\vec{r}_0, \vec{n}_0)\vec{n}_0$ , što uvršteno u (5.26) daje

$$\vec{r}_p = (\vec{r}, \vec{u}_0)\vec{u}_0 + (\vec{r}_0, \vec{n}_0)\vec{n}_0. \quad (5.27)$$

Kako je prema Propoziciji 5.2,  $c = -(\vec{r}_0, \vec{n}_0)$ , iz (5.27) slijedi (5.25).  $\square$

### 5.2.4 Ravnina u prostoru

Ravnina u prostoru također se može zadati na više načina. Mi ćemo razmatrati slučaj zadavanja ravnine  $M$  u prostoru pomoću jedne njene točke  $P_0 = (x_0, y_0, z_0) \in M$  i normale  $\vec{n} = A\vec{i} + B\vec{j} + C\vec{k} \neq \vec{0}$  na nju u smjeru od ishodišta  $O$ .



Slika 5.11: Zadavanje ravnine u prostoru

Tada je za svaku točku  $P = (x, y, z) \in M$  normala  $\vec{n}$  okomita na vektor  $\overrightarrow{P_0P}$ , tj. vrijedi

$$A(x - x_0) + B(y - y_0) + C(z - z_0) = 0,$$

odnosno

$$Ax + By + Cz + D = 0, \quad \text{gdje je } D = -Ax_0 - By_0 - Cz_0. \quad (5.28)$$

Jednadžbu (5.28) zovemo **opća jednadžba ravnine** zadane točkom  $P_0$  i normalom  $\vec{n}$ .

Ako je  $A \cdot B \cdot C \cdot D \neq 0$ , onda jednadžba (5.28) prelazi u **segmentni oblik jednadžbe ravnine**

$$\frac{x}{p} + \frac{y}{q} + \frac{z}{r} = 1, \quad \text{gdje je } p = -\frac{D}{A}, \quad q = -\frac{D}{B}, \quad r = -\frac{D}{C}. \quad (5.29)$$

**Primjer 5.12.** Ravnina  $M$  u prostoru zadana je točkom  $P_0 = (1, 2, 2)$  i normalom  $\vec{n} = 2\vec{i} - 2\vec{j} + \vec{k}$ . Kako je  $D = 0$ , opća jednadžba ove ravnine je  $2x + 2y + z = 0$ . Što su sjecišta ove ravnine s koordinatnim ravninama  $(xy)$ ,  $(xz)$  i  $(yz)$ ?

**Primjer 5.13.** Zadana je opća jednadžba ravnine  $6x + 3y + 2z - 6 = 0$ . Njezin segmentni oblik je  $\frac{x}{1} + \frac{y}{2} + \frac{z}{3} = 1$ . Nacrtajte plohu ove ravnine u koordinatnom sustavu.

### 5.2.5 Projekcija vektora na ravninu i udaljenost točke do ravnine

Neka je  $P_0 = (x_0, y_0, z_0)$  točka u ravnini  $M$ ,  $\vec{n} = A\vec{i} + B\vec{j} + C\vec{k}$  normala na nju u smjeru od ishodišta  $O$ , a  $\vec{n}_0$  jedinični vektor u smjeru normale.

Za točku  $Q \in E$  izvan ravnine  $M$  definirajmo vektor  $\vec{c} := \overrightarrow{P_0Q} \in X_0(E)$  i pronađimo njegovu ortogonalnu projekciju na ravninu  $M$ . U tu svrhu pronađimo jednu ortonormiranu bazu u ravnini  $M$ . To ćemo uraditi tako da izaberemo dva linearno nezavisna vektora  $\vec{a}, \vec{b}$  okomita na normalu i za njih provedemo Gram-Schmidtov postupak ortogonalizacije. Dobivamo ortonormiranu bazu  $(\vec{u}, \vec{v})$ :

$$\begin{aligned}\vec{u} &= \vec{a}/\|\vec{a}\| \\ \vec{v} &= \vec{b} - (\vec{b} \cdot \vec{u})\vec{u}; \quad \vec{v} = \vec{v}/\|\vec{v}\|\end{aligned}$$

Projekcija vektora  $\vec{c} = \overrightarrow{P_0Q}$  na ravninu  $M$  tada je

$$\vec{c}_M = (\vec{c} \cdot \vec{u})\vec{u} + (\vec{c} \cdot \vec{v})\vec{v}, \quad (5.30)$$

a radij vektor projekcije  $Q'$  točke  $Q$  na ravninu  $M$  je

$$\vec{r}_{Q'} = \vec{r}_0 + \vec{c}_M. \quad (5.31)$$

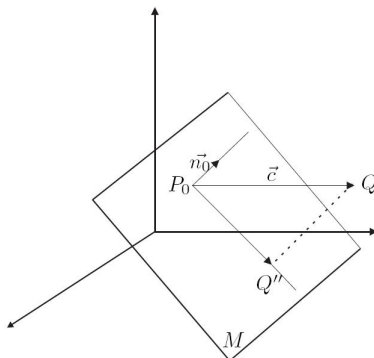
Konačno, dobivamo udaljenost točke  $Q$  do ravnine  $M$ :

$$d(Q, M) = \|\vec{r}_Q - \vec{r}_{Q'}\| = \|(\vec{r}_0 + \vec{c}) - (\vec{r}_0 + \vec{c}_M)\| \quad (5.32)$$

$$\text{odnosno } d(Q, M) = \|\vec{c} - \vec{c}_M\|. \quad (5.33)$$

Do istog rezultata možemo doći primjenom formule (5.9) str. 9 vektor  $\vec{c}$  rastaviti ćemo na dva vektora: jedan u smjeru normale  $\vec{n}$ , a drugi okomito na nju (leži u ravnini  $M$ ):

$$\vec{c} = (\vec{c} \cdot \vec{n}_0)\vec{n}_0 + \vec{n}_0 \times (\vec{c} \times \vec{n}_0), \quad \vec{n}_0 = \frac{A\vec{i}+B\vec{j}+C\vec{k}}{\sqrt{A^2+B^2+C^2}}. \quad (5.34)$$



Slika 5.12: Udaljenost točke  $Q$  do ravnine  $M$

Pri tome (vidi Sliku 5.12 i usporedi sa Slikom 5.7):

- $(\vec{c} \cdot \vec{n}_0)\vec{n}_0$  je projekcija vektora  $\vec{c}$  na normalu određenu vektorom  $\vec{n}_0$ ;
- $\|(\vec{c} \cdot \vec{n}_0)\vec{n}_0\| = |\vec{c} \cdot \vec{n}_0|$  je udaljenost točke  $Q$  do ravnine  $M$ ;
- $\vec{n}_0 \times (\vec{c} \times \vec{n}_0)$  je projekcija vektora  $\vec{c}$  na ravninu  $M$ ;
- $\|\vec{n}_0 \times (\vec{c} \times \vec{n}_0)\| = \|\vec{c} \times \vec{n}_0\|$  je udaljenost točke  $Q$  do normale ( $\vec{n}_0 \perp (\vec{c} \times \vec{n}_0)$ ).

Neka je ravnina  $M$  u prostoru zadana točlom  $P_0 = (x_0, y_0, z_0)$  i normalom  $\vec{n} = A\vec{i} + B\vec{j} + C\vec{k}$ . Treba odrediti udaljenost točke  $Q = (x_Q, y_Q, z_Q)$  do ravnine  $M$ . Ako definiramo vektor  $\vec{c} = \overrightarrow{P_0Q} = (x_Q - x_0)\vec{i} + (y_Q - y_0)\vec{j} + (z_Q - z_0)\vec{k}$ , udaljenost točke  $Q$  do ravnine  $M$  bit će

$$d(Q, M) = |(\vec{c} \cdot \vec{n}_0)| = \frac{|A(x_Q - x_0) + B(y_Q - y_0) + C(z_Q - z_0)|}{\sqrt{A^2 + B^2 + C^2}} = \frac{|Ax_Q + By_Q + Cz_Q + D|}{\sqrt{A^2 + B^2 + C^2}}, \quad (5.35)$$

gdje je  $D = -Ax_0 - By_0 - Cz_0$ .



**Primjer 5.14.** Ravnina  $M$  u prostoru zadana je točkom  $P_0 = (1, 2, 2)$  i normalom  $\vec{n} = 2\vec{i} - 2\vec{j} + \vec{k}$ . Odredimo udaljenost točke  $Q = (2, 3, 4)$  do ravnine  $M$ .

Dva linearno nezavisna vektor okomita na normalu  $\vec{n}$  možemo izabrati sljedeći način:

$$\begin{aligned}\vec{a} &= \vec{i} + \vec{j}, \\ \vec{b} &= \vec{j} + 2\vec{k}\end{aligned}$$

Gram-Schmidtovim postupkom ortogonalizacije dobivamo:

$$\begin{aligned}\vec{u} &= \vec{a}/\|\vec{a}\| = \frac{\sqrt{2}}{2}\vec{i} + \frac{\sqrt{2}}{2}\vec{j} \\ \vec{v} &= \vec{b} - (\vec{b} \cdot \vec{u})\vec{u}; \quad \vec{v} = \vec{v}/\|\vec{v}\| = -\frac{\sqrt{2}}{6}\vec{i} + \frac{\sqrt{2}}{6}\vec{j} + \frac{2\sqrt{2}}{3}\vec{k}\end{aligned}$$

Projekcija vektora  $\vec{c}$  na ravninu  $M$  prema (5.30) je vektor  $\frac{5}{9}\vec{i} + \frac{13}{9}\vec{j} + \frac{16}{9}\vec{k}$ , točka  $Q' = (\frac{14}{9}, \frac{31}{9}, \frac{34}{9})$  određena je s (5.31), a udaljenost točke  $Q$  do ravnine  $M$  prema (5.32) je  $2/3$ .

Primjenom formule (5.34) dobivamo isti rezultat:

$$\begin{aligned}\vec{n}_0 &= \frac{2}{3}\vec{i} - \frac{2}{3}\vec{j} + \frac{1}{3}\vec{k}, \\ (\vec{c} \cdot \vec{n}_0)\vec{n}_0 &= \frac{4}{9}\vec{i} - \frac{4}{9}\vec{j} + \frac{2}{9}\vec{k}, \\ \|(\vec{c} \cdot \vec{n}_0)\vec{n}_0\| &= \frac{2}{3}, \quad [\text{udaljenost } d(Q, M)] \\ \vec{n}_0 \times (\vec{c} \times \vec{n}_0) &= \frac{5}{9}\vec{i} - \frac{13}{9}\vec{j} + \frac{16}{9}\vec{k}, \\ \|\vec{n}_0 \times (\vec{c} \times \vec{n}_0)\| &= \frac{5\sqrt{2}}{3}.\end{aligned}$$

**Primjer 5.15.** Izračunajmo udaljenost ishodišta  $O = (0, 0, 0)$  pravokutnog koordinatnog sustava do ravnine zadane jednadžbom  $6x + 3y + 2z - 6 = 0$ .

Imamo

$$d(O, M) = \frac{|6 \cdot 0 + 3 \cdot 0 + 2 \cdot 0 - 6|}{\sqrt{6^2 + 3^2 + 2^2}} = \frac{6}{7}.$$

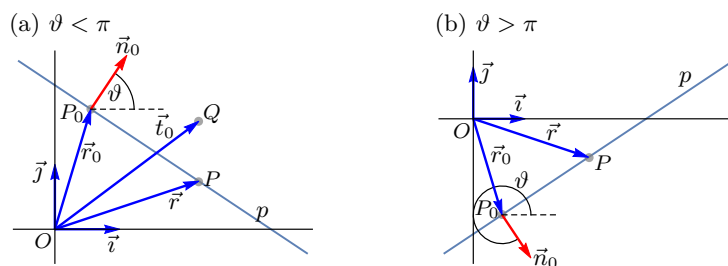
## 5.3 Hesseov normalni oblik jednadžbe pravca i ravnine

### 5.3.1 Hesseov normalni oblik jednadžbe pravca u ravnini

Neka je  $(O; (\vec{i}, \vec{j}))$  pravokutni koordinatni sustav u ravnini. Pravac  $p$  u ravnini može se definirati točkom  $P_0 \in p$  i jediničnim vektorom normale (Slika 5.13)

$$\vec{n}_0 = \cos \alpha \vec{i} + \sin \alpha \vec{j},$$

koji je okomit na pravac i ima smjer od ishodišta  $O$ . Kut  $\vartheta \in [0, 2\pi]$  definira se kao kut između vektora  $\vec{i}$  i  $\vec{n}_0$ , tj. kao kut između pozitivnog smjera osi- $x$  i vektora normale  $\vec{n}_0$



Slika 5.13: Hesseov normalni oblik jednadžbe pravca u ravnini

Označimo s  $\vec{r}_0$  radij vektor točke  $P_0$ . Neka je nadalje  $P = (x, y)$  proizvoljna točka na pravcu, a  $\vec{r} = x\vec{i} + y\vec{j}$  njezin radij vektor. Vektor  $\overrightarrow{P_0P} = \vec{r} - \vec{r}_0$  okomit je na normalu  $\vec{n}_0$ , pa vrijedi

$$(\vec{r} - \vec{r}_0) \cdot \vec{n}_0 = 0, \quad (5.36)$$

odnosno

$$\vec{r} \cdot \vec{n}_0 - \vec{r}_0 \cdot \vec{n}_0 = 0.$$

Pri tome je

$$\delta := \vec{r}_0 \cdot \vec{n}_0 = (r_0)_{n_0} > 0$$

udaljenost ishodišta  $O$  do pravca  $p$ . Tako dobivamo **Hesseov normalni oblik jednadžbe pravca**

$$x \cos \alpha + y \sin \alpha - \delta = 0. \quad (5.37)$$

Udaljenost proizvoljne točke  $Q = (x_Q, y_Q)$  do pravca  $p$  je (vidi Sliku 5.13a)

$$d(T_0, \ell) = |(\vec{t}_0 \cdot \vec{n}_0) - (\vec{r}_0 \cdot \vec{n}_0)| = |x_0 \cos \vartheta + y_0 \sin \vartheta - \delta|, \quad (5.38)$$

gdje je  $\vec{t}_0$  radij-vektor točke  $Q$ .

Obratno, neka je pravac  $p$  u ravnini zadan s

$$ax + by + c = 0, \quad a^2 + b^2 \neq 0, \quad (5.39)$$

Pretpostavimo da je  $c < 0$  (ako nije, jednadžbu (5.39) pomnožimo s  $(-1)$ ) i jednadžbu (5.39) podijelimo s  $\sqrt{a^2 + b^2}$ . Dobivamo

$$a_1x + b_1y + c_1 = 0, \quad a_1 = \frac{a}{\sqrt{a^2 + b^2}}, \quad b_1 = \frac{b}{\sqrt{a^2 + b^2}}, \quad c_1 = \frac{c}{\sqrt{a^2 + b^2}} < 0,$$

pri čemu je  $a_1^2 + b_1^2 = 1$ . Zato postoji  $\alpha \in [0, 2\pi]$  i  $\delta > 0$ , tako da bude

$$a_1 = \cos \alpha, \quad b_1 = \sin \alpha, \quad c_1 = -\delta > 0,$$

a jednadžbu (5.39), možemo zapisati u Hesseovom normalnom obliku (5.37).

Udaljenost točke  $Q$  do pravca  $p$  određena je s

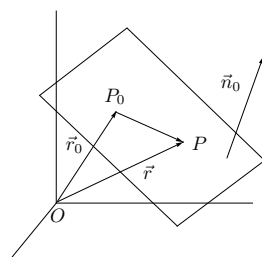
$$d(Q, p) = |x_Q \cos \alpha + y_Q \sin \alpha - \delta|. \quad (5.40)$$

### 5.3.2 Hesseov normalni oblik jednadžbe ravnine u prostoru

Neka je  $(O; (\vec{i}, \vec{j}, \vec{k}))$  pravokutni koordinatni sustav u prostoru. Ravnina  $M$  u prostoru zadana je nekom točkom  $P_0 \in M$  i jediničnim vektorom

$$\vec{n}_0 = \cos \alpha \vec{i} + \cos \beta \vec{j} + \cos \gamma \vec{k},$$

koji ima smjer od ishodišta  $O$  prema ravnini  $M$ .



Slika 5.14: Sliku treba promijeniti !!!

Neka je  $P = (x, y, z)$  proizvoljna točka u ravnini, a  $\vec{r} = x\vec{i} + y\vec{j} + z\vec{k}$  odgovarajući radij vektor. Iz uvjeta okomitosti vektora  $\vec{n}_0$  i vektora  $\overrightarrow{P_0P}$  dobivamo vektorski zapis jednadžbe ravnine  $M$

$$\vec{n}_0 \cdot (\vec{r} - \vec{r}_0) = 0,$$

gdje je  $\vec{r}_0$  radij vektor točke  $P_0$ . Prethodnu jednakost možemo pisati

$$\vec{n}_0 \cdot \vec{r} - \vec{n}_0 \cdot \vec{r}_0 = 0,$$

odakle uz oznaku (udaljenost točke  $O$  do ravnine  $M$ )

$$\delta := \vec{n}_0 \cdot \vec{r}_0 = (r_0)_{n_0} > 0,$$

dobivamo **Hesseov normalni oblik jednadžbe ravnine  $M$**  u prostoru

$$x \cos \alpha + y \cos \beta + z \cos \gamma - \delta = 0. \quad (5.41)$$

Udaljenost točke  $Q$  do ravnine  $M$  zadana je s

$$d(Q, M) = |x_Q \cos \alpha + y_Q \cos \beta + z_Q \cos \gamma - \delta|. \quad (5.42)$$



## Poglavlje 6

# Dodatak

Neke važne matematičke pojmove, kao što su „pojam nužno i dovoljno”, „princip kontradikcije” i „univerzalni i egzistencijalni kvantifikator”, a koje ćemo često koristiti, pokušat ćemo objasniti na nekoliko jednostavnih primjera.

### 6.1 Egzistencijalni i univerzalni kvantifikator

Egzistencijalni kvantifikator ( $\exists$ ) čitamo „postoji barem jedan” ili češće samo „postoji”. Primjerice, činjenicu da postoji prirodan broj  $p > 1$  koji dijeli broj 9 pišemo:  $(\exists p \in \mathbb{N}) p|9$ .

Univerzalni kvantifikator ( $\forall$ ) čitamo „za svaki” ili češće samo „svaki”. Primjerice, ako s  $\mathcal{P}$  označimo skup svih prim-brojeva, a s  $\mathcal{Q}$  skup svih složenih brojeva, onda vrijedi  $\mathbb{N} = \mathcal{P} \cup \mathcal{Q} \cup \{1\}$ , a činjenicu da je svaki složeni broj  $q > 1$  djeljiv s barem jednim prim-brojem pišemo:  $(\forall q \in \mathcal{Q}) (\exists p \in \mathcal{P}) p|q$ .

### 6.2 Nužni i dovoljni uvjeti

**Primjer 6.1.** *Iz osnovne škole poznata nam je definicija četverokuta:*

Četverokut je zatvoren geometrijski lik koji ima četiri kuta i četiri stranice.

*Što su nužni i dovoljni uvjeti da bi neki četverokut bio kvadrat?*

*Da bi neki četverokut bio kvadrat nužno je da su mu sve četiri stranice jednako dugačke. Je li to i dovoljno? Nije, jer bi to značilo da je i svaki romb kvadrat.*

*Da bi neki četverokut bio kvadrat nužno je da su mu kutevi pravi. Je li to i dovoljno? Nije, jer bi to značilo da je i svaki pravokutnik kvadrat.*

*Sustav nužnih i dovoljnih uvjeta da bi neki četverokut bio kvadrat je:*

- (i) sve njegove stranice jedanako su dugačke;*
- (ii) svi njegovi kutevi su pravi.*

*Zato kažemo:*

*Četverokut je kvadrat onda i samo onda ako su sve njegove stranice jednako dugačke i ako su svi njegovi kutevi pravi.*

*Svaki od navedenih uvjeta je „nužan”, ali ne i dovoljan. Je li navedeni sustav uvjeta jedini sustav nužnih i dovoljnih uvjeta da bi neki četverokut bio kvadrat? Pokušajte definirati neki drugi sustav nužnih i dovoljnih uvjeta da bi neki četverokut bio kvadrat.*

**Primjer 6.2.** *Iz srednje škole poznata nam je definicija prim-broja (prostog broja):*

*Prosti brojevi ili prim-brojevi su svi prirodni brojevi djeljivi bez ostatka samo s brojem 1 i sami sa sobom, a strogo su veći od broja 1.*

*Što su nužni i dovoljni uvjeti da bi neki prirodni broj bio prim-broj?*

*Da bi neki prirodni broj bio prim-broj nužno je da je djeljiv bez ostatka s brojem 1. Je li to i dovoljno? Nije, jer bi to značilo da je i broj 8 prim-broj.*

*Da bi neki prirodni broj bio prim-broj nužno je da je djeljiv bez ostatka sam sa sobom. Je li to i dovoljno? Nije, jer bi to značilo da je i broj 4 prim-broj.*

*Nužni i dovoljni uvjeti da bi prirodni broj  $p \in \mathbb{N}$  bio prim-broj su:*

- (i) broj  $p$  djeljiv je bez ostatka s 1;*
- (ii) broj  $p$  djeljiv je bez ostatka sam sa sobom;*
- (iii) broj  $p$  nije djeljiv bez ostatka ni s jednim drugim prirodnim brojem;*
- (iv)  $p > 1$ .*

*Zato kažemo:*

*Prirodni broj  $p > 1$  je prim-broj onda i samo onda ako je djeljiv samo s 1 i sam sa sobom.*

*Svaki od navedenih uvjeta je „nužan”, ali ne i dovoljan. Je li navedeni sustav uvjeta jedini sustav nužnih i dovoljnih uvjeta koji određuje skup primbrojeva?*

### 6.3 Princip kontradikcije

Princip kontradikcije zasniva se na Aristotelovom principu isključenja trećeg: „Neka tvrdnja je istinita ili lažna, a treća mogućnost ne postoji”.

**Primjer 6.3.** *U prostoriji se nalazi 400 studenata.*

*Tvrdnja  $T$ : Barem dva studenta imaju na isti dan rođendan.*

*Tvrdnja  $\bar{T}$ : Svi studenti imaju rođendan na različite datume.*

*Budući da godina ima 365 (ili eventualno 366) dana, tvrdnja  $\bar{T}$  nije istinita. Zato je prema principu kontradikcije tvrdnja  $T$  istinita.*





# Literatura

- [1] D. JUKIĆ, R. SCITOVSKI, *Matematika I*, Odjel za matematiku, Sveučilište u Osijeku, 2017, <http://www.mathos.unios.hr/index.php/odjel/nasa-izdanja?getBook=707>.
- [2] S. KUREPA, *Uvod u linearnu algebru*, Školska knjiga, Zagreb, 1985.